



**KEMENTERIAN RISET, TEKNOLOGI, DAN PENDIDIKAN TINGGI
UNIVERSITAS BRAWIJAYA
FAKULTAS KEDOKTERAN**

Jalan Veteran Malang-65145, Jawa Timur-Indonesia
Telp. (62) (0341) 551611 Ext. 213.214; 569117; 567192 – Fax. (62) (0341) 564755

Lampiran 7. KUESIONER PERKEMBANGAN KOGNITIF ANAK

LEMBAR KUESIONER PERKEMBANGAN KOGNITIF ANAK USIA

PRASEKOLAH

Petunjuk Pengisian Kuesioner

1. Kerjakan setiap soal sesuai dengan pertanyaan yang tersedia.
2. Jawab setiap pertanyaan dengan jawaban yang saudara anggap paling sesuai
3. Tanyakan pada guru apabila ada yang tidak dimengerti.
4. Kumpulkan kuesioner apabila telah selesai mengerjakan seluruh soal.

1. Lingkari benda-benda yang berwarna merah!






KEMENTERIAN RISET, TEKNOLOGI, DAN PENDIDIKAN TINGGI
UNIVERSITAS BRAWIJAYA
FAKULTAS KEDOKTERAN

Jalan Veteran Malang-65145, Jawa Timur-Indonesia

Telp. (62) (0341) 551611 Ext. 213.214; 569117; 567192 – Fax. (62) (0341) 564755

2. Urutkan gambar dibawah ini, dari yang terbesar hingga terkecil!



A



B

C

3. Beri tanda silang (x) pada gambar yang termasuk alat transportasi!



4. Beri tanda silang (X) pada pohon yang lebih tinggi!








KEMENTERIAN RISET, TEKNOLOGI, DAN PENDIDIKAN TINGGI
UNIVERSITAS BRAWIJAYA
FAKULTAS KEDOKTERAN







Jalan Veteran Malang-65145, Jawa Timur-Indonesia

Telp. (62) (0341) 551611 Ext. 213.214; 569117; 567192 – Fax. (62) (0341) 564755

5. Berilah tanda silang (X) pada gambar yang paling banyak jumlahnya

		
.....

6. Pasangkan gambar di bawah ini!

7. Lingkarilah benda yang dapat ditarik oleh magnet!






**KEMENTERIAN RISET, TEKNOLOGI, DAN PENDIDIKAN TINGGI
UNIVERSITAS BRAWIJAYA
FAKULTAS KEDOKTERAN**

Jalan Veteran Malang-65145, Jawa Timur-Indonesia

Telp. (62) (0341) 551611 Ext. 213.214; 569117; 567192 – Fax. (62) (0341) 564755

8. Coba sebutkan urutan angka 1-10!

9. Hitung jumlah gambar dan lingkari jumlah yang tepat!



3


5

7


10. Lingkarilah benda yang bentuknya lingkaran!




11. Cocokkan angka dengan gambar yang sesuai!



3



2



4








KEMENTERIAN RISET, TEKNOLOGI, DAN PENDIDIKAN TINGGI
UNIVERSITAS BRAWIJAYA
FAKULTAS KEDOKTERAN

Jalan Veteran Malang-65145, Jawa Timur-Indonesia

Telp. (62) (0341) 551611 Ext. 213.214; 569117; 567192 – Fax. (62) (0341) 564755

12. Beri tanda sama dengan (=) pada gambar yang jumlahnya sama!



13. Berilah tanda silang (X) pada benda yang bentuknya segitiga!







**KEMENTERIAN RISET, TEKNOLOGI, DAN PENDIDIKAN TINGGI
UNIVERSITAS BRAWIJAYA
FAKULTAS KEDOKTERAN**

Jalan Veteran Malang-65145, Jawa Timur-Indonesia

Telp. (62) (0341) 551611 Ext. 213.214; 569117; 567192 – Fax. (62) (0341) 564755

14. Bantu nenek untuk bisa pergi ke pasar!






**KEMENTERIAN RISET, TEKNOLOGI, DAN PENDIDIKAN TINGGI
UNIVERSITAS BRAWIJAYA
FAKULTAS KEDOKTERAN**

Jalan Veteran Malang-65145, Jawa Timur-Indonesia

Telp. (62) (0341) 551611 Ext. 213.214; 569117; 567192 – Fax. (62) (0341) 564755

15. Ukur Panjang benda dengan menghitung jumlah ikan. Lingkari jumlah yang benar!



4

5

6

16. Berilah tanda silang (X) pada gambar siang hari!





KEMENTERIAN RISET, TEKNOLOGI, DAN PENDIDIKAN TINGGI
UNIVERSITAS BRAWIJAYA
FAKULTAS KEDOKTERAN

Jalan Veteran Malang-65145, Jawa Timur-Indonesia

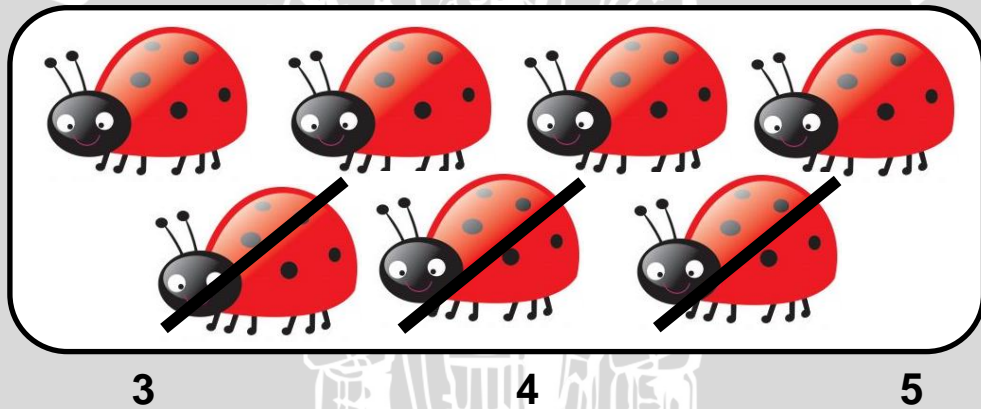
Telp. (62) (0341) 551611 Ext. 213.214; 569117; 567192 – Fax. (62) (0341) 564755

17. Beri tanda silang (X) pada benda yang berbau wangi!



18. Coba sebutkan nama-nama hari dalam seminggu!

19. Berapa jumlah gambar yang tidak dicoret? Lingkari jumlah yang tepat!



20. Jumlahkan dan lingkari jumlah yang tepat!

